



Β' ΤΑΞΗ

Ποια σχήματα γνωρίζω...;


# Βιβλίο μαθητή

D.CB.1

Teacher station


Βλέπουμε τις εικόνες...

Ποια σχήματα και ποια στερεά αναγνωρίζουμε;



Πηγή: Φωτόδεντρο

Γεωμετρικά στερεά



D.CB.4

Technology  
station

**Ακολουθούμε τον σύνδεσμο**

**<https://elearning.remacproject.eu/?p=2986>**

**και κάνουμε τις δραστηριότητες στον Η/Υ!**




D.CB.7

Collaboration  
station

A. Κατασκευάζουμε τα στερεά που βλέπουμε στην κάθε εικόνα. Στη συνέχεια, τα ονομάζουμε.

B. Ζωγραφίζουμε τα σχήματα που ξέρουμε και τα ονομάζουμε.





D.CB. 10

Collaboration  
station

«Στερεά παντού....»

Ποια στερεά συναντώ καθημερινά; Και πού;

Σκεφτόμαστε και τα καταγράφουμε.

<p>D.CB.13</p> <p>Teacher station</p>	<p><b>«Μετρώ τα σχήματα»</b></p> <p>Επιλέγουμε κάποια σχήματα που κάναμε στη δραστηριότητα 3. Με τη βοήθεια του δασκάλου/της δασκάλας μας μετράμε τις πλευρές τους.</p>
---------------------------------------	---

